























**ステップ① 解答**

けいさん  
 計算してみよう。

	が	7	まい
	が	3	まい
	が	2	まい
	が	3	まい

あわせていくら？

**3237**

																<b>7</b>
																<b>30</b>
																<b>200</b>
																<b>3000</b>
																<b>3000</b>
																<b>3237</b>
																<b>3237</b>
ごうけい																<b>3237</b>